

Prénom : ..... Date : .....

**ADDITIONS DE DIZAINES****Complète ces égalités.**

$$\underline{1}0 + \underline{1}0 + \underline{1}0 + \underline{1}0 + \underline{1}0 = \underline{5}0$$

$$10 + 10 = \dots$$

$$10 + 10 + 10 = \dots$$

$$10 + 10 + 10 + 10 + 10 + 10 + 10 = \dots$$

$$10 + 10 + 10 + 10 = \dots$$

$$\dots = 60$$

$$\dots = 80$$

$$\dots = 90$$

**Complète ces égalités.**

$$\underline{2}0 + \underline{3}0 = \underline{5}0$$

$$40 + 20 = \dots$$

$$30 + 30 + 10 = \dots$$


$$60 + 30 = \dots$$

$$40 + 40 = \dots$$

$$20 + 20 + 20 + 20 = \dots$$

$$\dots = 60$$

$$\dots = 30$$

**Tu peux compter les dizaines en t'aidant ci-dessous :**

Prénom : ..... Date : .....

## CEINTAINES DIZAINES ET UNITÉS

Dans chaque nombre, entoure le chiffre des unités.

51 68 109 890 548 327 852 750 210 7 64

Dans chaque nombre, entoure le chiffre des dizaines.

423 29 105 670 87 42 104 781 24

Dans chaque nombre, entoure le chiffre des centaines.

606 434 104 224 605 702 454 836 909

Écris le nombre de centaines, dizaines et unités.

<table border="1" style="width: 100%; border-collapse: collapse;"> <tr> <td style="width: 33%; text-align: center;">c</td> <td style="width: 33%; text-align: center;">d</td> <td style="width: 33%; text-align: center;">u</td> </tr> <tr> <td style="height: 20px;"></td> <td></td> <td></td> </tr> </table>	c	d	u				<table border="1" style="width: 100%; border-collapse: collapse;"> <tr> <td style="width: 33%; text-align: center;">c</td> <td style="width: 33%; text-align: center;">d</td> <td style="width: 33%; text-align: center;">u</td> </tr> <tr> <td style="height: 20px;"></td> <td></td> <td></td> </tr> </table>	c	d	u				<table border="1" style="width: 100%; border-collapse: collapse;"> <tr> <td style="width: 33%; text-align: center;">c</td> <td style="width: 33%; text-align: center;">d</td> <td style="width: 33%; text-align: center;">u</td> </tr> <tr> <td style="height: 20px;"></td> <td></td> <td></td> </tr> </table>	c	d	u			
c	d	u																		
c	d	u																		
c	d	u																		

.....

.....

.....

Prénom : ..... Date : .....

**COMPOSER / DÉCOMPOSER**

Regarde bien combien il y a de dizaines et d'unités et écris le nombre correspondant.

$$\underline{10+10+10+10+10+3} = 53$$

$$10+10+5 = \dots$$

$$4+10+10+10 = \dots$$

$$10+10+8+10+10+10+10+10 = \dots$$

$$10+10+7+10 = \dots$$

$$\underline{10+10+10+10+10+3} = 53$$

$$10+10+10+4 = \dots$$

$$3+60 = \dots$$

$$20+9 = \dots$$

$$80+1+1 = \dots$$

$$1+1+1+50 = \dots$$

Complète ces égalités comme sur le modèle.

$$64 = 10+10+10+10+10+10+4$$

$$24 = \dots$$

$$39 = \dots$$

$$73 = \dots$$

$$98 = \dots$$

$$42 = \dots$$

Prénom : ..... Date : .....

**COMPOSER / DÉCOMPOSER**

Complète ces égalités comme sur le modèle.

$$64 = 10+10+10+10+10+10+4$$

$$37 = \dots\dots\dots$$

$$72 = \dots\dots\dots$$

$$53 = \dots\dots\dots$$

$$91 = \dots\dots\dots$$

$$29 = \dots\dots\dots$$

Regarde bien combien il y a de dizaines et d'unités et écris le nombre correspondant.

$$\underline{10+10+10+10+3} = 43$$

$$10+10+10+10+10+10+8 = \dots\dots$$

$$4+10+10+10+10+10 = \dots\dots$$

$$10+10+5+10+10+10+10+10 = \dots\dots$$

$$10+10+4+10 = \dots\dots$$

$$\underline{10+10+10+10+10+1+1+1} = 53$$

$$10+10+10+1+1+1+1 = \dots\dots$$

$$1+1+1+1+1+10+10 = \dots\dots$$

$$20+20+1+1+1 = \dots\dots$$

$$30+30+10+1+1 = \dots\dots$$

$$40+40+3+3 = \dots\dots$$

Prénom : ..... Date : .....

## DIZAINES ET UNITÉS

Écris le nombre de dizaines et le nombre d'unités.

d	u	d	u	d	u	d	u	d	u

Regroupe les étoiles par dizaines et écris combien il y en a.

☆☆☆    ☆ ☆☆☆    ☆ ☆☆☆ ☆☆☆    ☆ ☆ ☆ ☆

  ☆☆ ☆ ☆ ☆ ☆☆☆ ☆ ☆ ☆☆☆    ☆ ☆

☆☆ ☆ ☆ ☆ ☆☆☆ ☆ ☆ ☆☆☆ ☆☆☆ ☆☆☆

☆☆☆☆ ☆☆☆ ☆ ☆☆☆ ☆ ☆☆☆ ☆ ☆ ☆☆☆ ☆☆☆ ☆

Il y a ..... dizaines et ..... unités.

Cela fait ..... étoiles.

●●●    ●● ●●    ●●●●●    ●● ●●●●

●●    ● ●●● ●● ● ●●● ●●● ●

●●●●● ●●●● ● ●●● ● ● ● ●●●●

●●●● ● ●●●●● ● ●●●● ● ●●●●

Il y a ..... dizaines et ..... unités.

Cela fait ..... points.

Prénom : ..... Date : .....

## DIZAINES ET UNITÉS

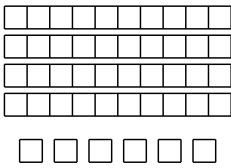
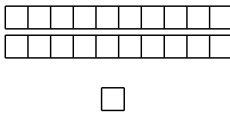
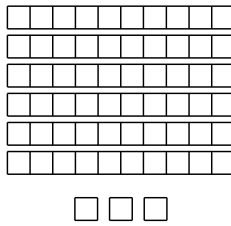
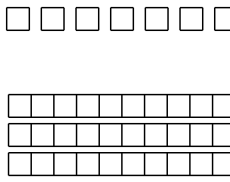

Dans chaque nombre, entoure le chiffre des dizaines **s'il y en a un**.

23 9 10 67 87 4 164 78 2 30 52 8

Dans chaque nombre, entoure le chiffre unités.

6 43 104 24 65 70 45 36 9 162 83 9

Écris le nombre de dizaines et le nombre d'unités.

									
d	u	d	u	d	u	d	u	d	u

Regroupe les étoiles par dizaines et écris combien il y en a.

★★☆☆    ☆    ★★    ★★    ★★    ★★    ☆    ☆    ☆    ☆  
       ★    ☆    ★★    ☆    ★★    ☆    ☆    ★★☆☆☆☆    ☆    ☆  
 ☆    ☆    ☆    ☆    ★★☆☆    ☆    ☆    ★★    ★★    ★★    ★★☆☆  
 ★★☆☆    ★★☆☆    ☆    ★★    ☆    ★★    ☆    ☆    ★★    ★★    ☆

Il y a ..... dizaines et ..... unités.

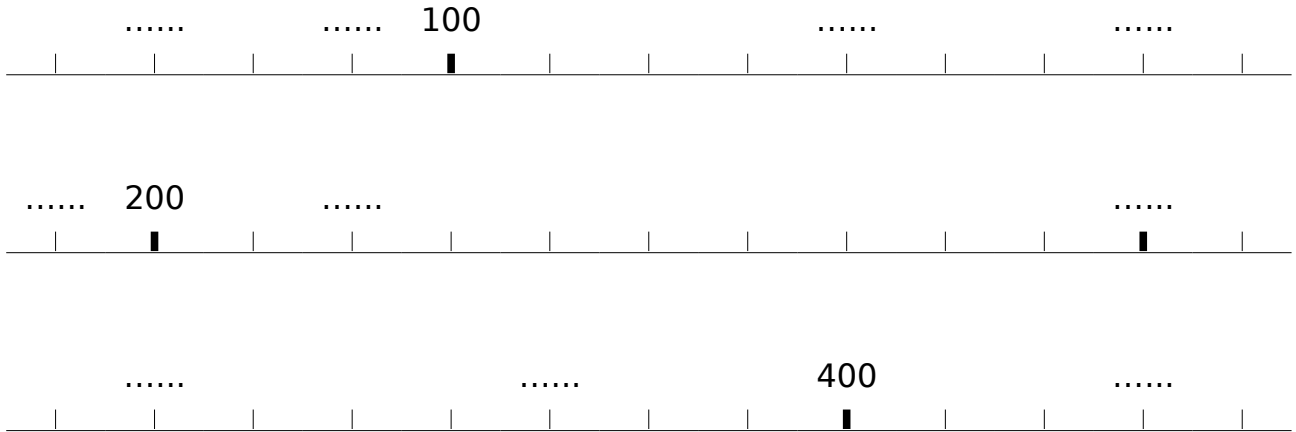
Cela fait ..... étoiles.

*Se repérer sur une droite graduée de 100 en 100*

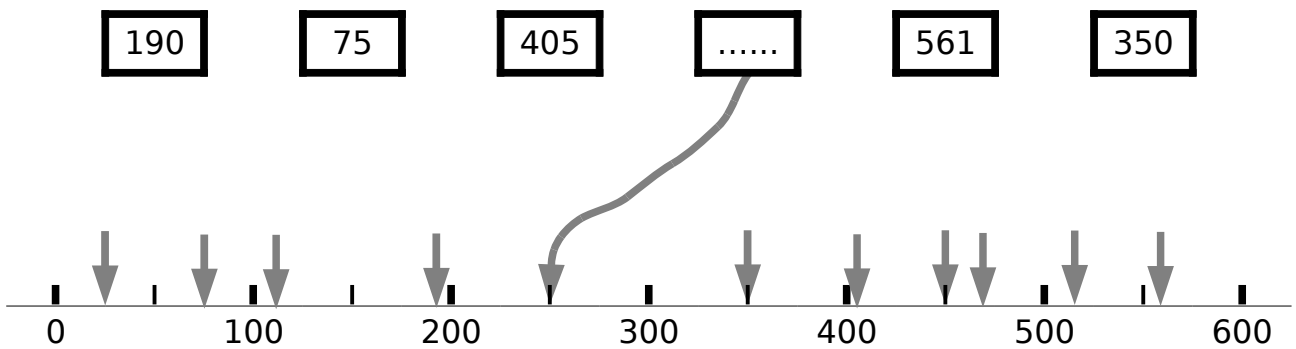
Prénom : ..... Date : .....

## DROITES GRADUÉES

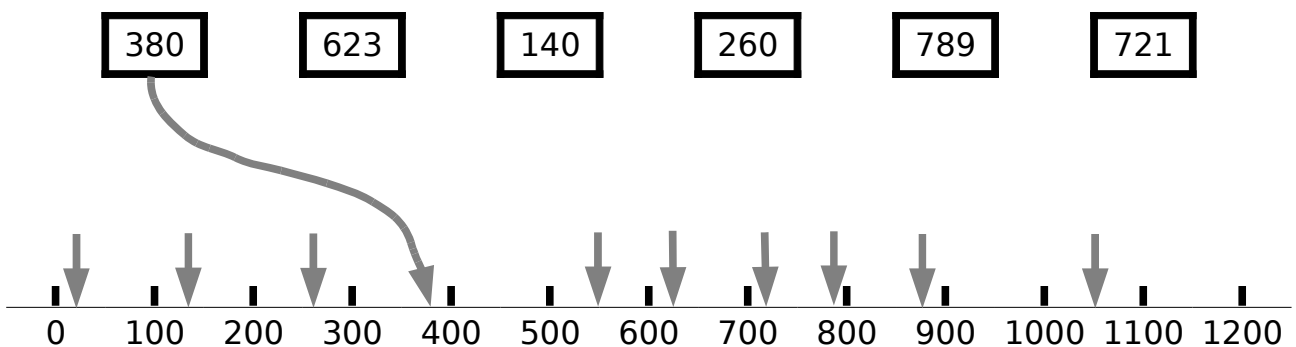
Écris les nombres sur les pointillés.



Relie chaque nombre à sa place exacte. Écris le nombre sur les pointillés.



Relie chaque nombre à sa place exacte. Attention, il y a des flèches intruses.

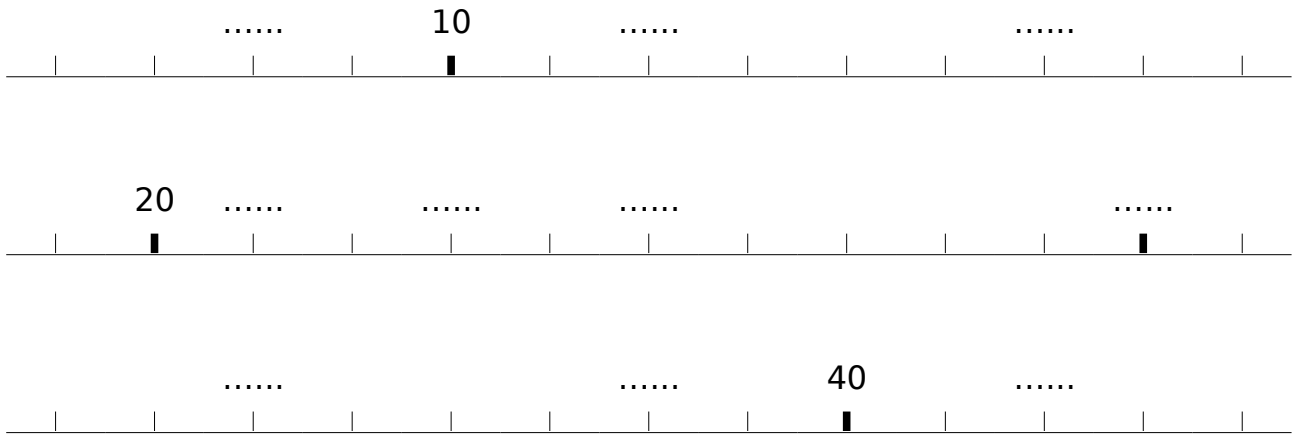


*Se repérer sur une droite graduée de 10 en 10*

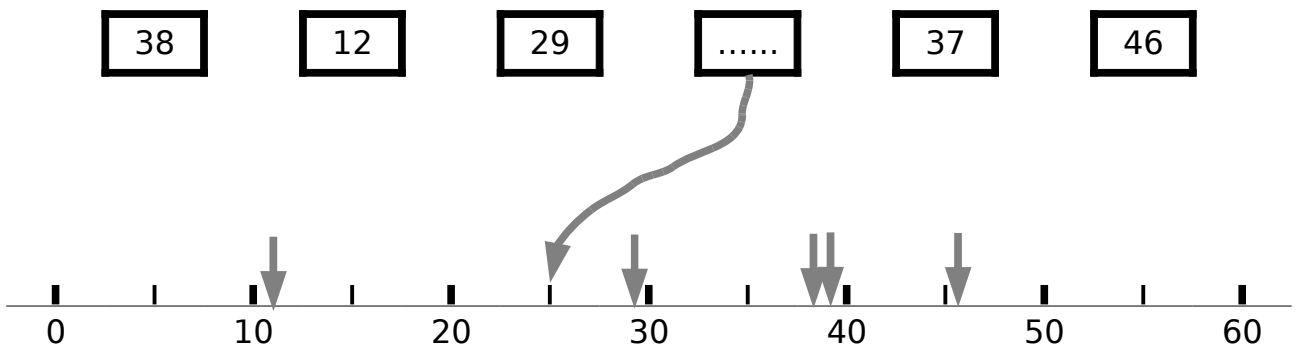
Prénom : ..... Date : .....

## DROITES GRADUÉES

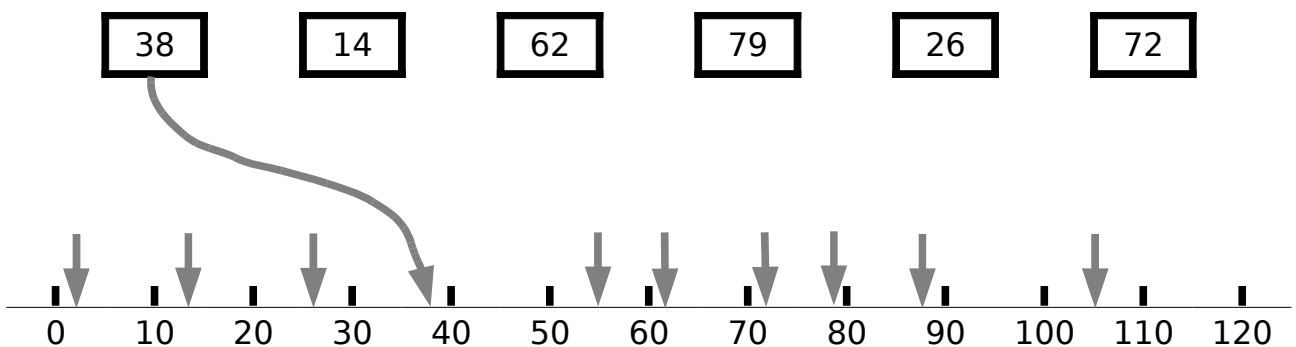
Écris les nombres sur les pointillés.



Relie chaque nombre à sa place exacte. Écris le nombre sur les pointillés.



Relie chaque nombre à sa place exacte. Attention, il y a des flèches intruses.





Prénom : ..... Date : .....

## LECTURE/ÉCRITURE DE NOMBRES

**Écris les nombres dictés par le maître dans les cases.**

--	--	--	--	--	--	--	--	--	--

**Écris les nombres en lettres en te servant des étiquettes.**

quatre	cinq	sept	huit
dix	treize	quatorze	quinze
vingt	vingts	quarante	soixante

24 vingt-quatre

68 .....

95 .....

18 .....

87 .....

75 .....

78 .....

85 .....

95 .....

Prénom : ..... Date : .....

**RANGEMENTS**

Range ces nombres par ordre croissant.

39	8	53	12	70	17	85	31
.....	.....	.....	.....	.....	.....	.....	.....

Range ces nombres par ordre décroissant.

16	87	84	48	61	52	19	7
.....	.....	.....	.....	.....	.....	.....	.....

Place ces nombres dans les bonnes cases (attention il y a une case vide en trop).

		76		63		14		10		31		
8	.....	.....	20	.....	37	45	.....	72	.....	75	.....	83

Écris un nombre qui convient dans chaque case vide.

.....	20	.....	37	.....	58	.....	.....	80	.....	95	.....	98
-------	----	-------	----	-------	----	-------	-------	----	-------	----	-------	----





Prénom : ..... Date : .....

**SUITES**

Observe et complète ces suites de 1 en 1.

25	26	27							
----	----	----	--	--	--	--	--	--	--

					62	63	64		
--	--	--	--	--	----	----	----	--	--

			99	100	101	102			
--	--	--	----	-----	-----	-----	--	--	--

		296	297	298					
--	--	-----	-----	-----	--	--	--	--	--

Observe et complète ces suites de 10 en 10.

340	350	360						420	
-----	-----	-----	--	--	--	--	--	-----	--

652	662	672				712		732	
-----	-----	-----	--	--	--	-----	--	-----	--

64	74					124	134	144	
----	----	--	--	--	--	-----	-----	-----	--

				127	137	147			
--	--	--	--	-----	-----	-----	--	--	--

Observe et complète ces suites de 100 en 100.

30		230	330	430					930
----	--	-----	-----	-----	--	--	--	--	-----

					521	621	721		
--	--	--	--	--	-----	-----	-----	--	--

86					586	686	786		
----	--	--	--	--	-----	-----	-----	--	--

Prénom : ..... Date : .....

**SUITES**

Observe et complète ces suites de 2 en 2.

7	9	11							
---	---	----	--	--	--	--	--	--	--

0	2	4							
---	---	---	--	--	--	--	--	--	--

27	29	31							
----	----	----	--	--	--	--	--	--	--

					62	64	66		
--	--	--	--	--	----	----	----	--	--

Observe et complète ces suites de 3 en 3.

3	6	9							
---	---	---	--	--	--	--	--	--	--

				14	17	21			
--	--	--	--	----	----	----	--	--	--

Observe et complète ces suites de 4 en 4.

2	6	10							
---	---	----	--	--	--	--	--	--	--

					7	11	15		
--	--	--	--	--	---	----	----	--	--

Observe et complète ces suites de 5 en 5.

0	5	10							
---	---	----	--	--	--	--	--	--	--

8	13	18							
---	----	----	--	--	--	--	--	--	--

Prénom : ..... Date : .....

**SUITES**

Observe et complète ces suites de 2 en 2.

2	4	6				14	16		
---	---	---	--	--	--	----	----	--	--

1	3	5						17	
---	---	---	--	--	--	--	--	----	--

			24	26	28				36
--	--	--	----	----	----	--	--	--	----

					19	21	23		
--	--	--	--	--	----	----	----	--	--

Observe et complète ces suites de 3 en 3.

3	6	9					24		
---	---	---	--	--	--	--	----	--	--

		17	20	23					
--	--	----	----	----	--	--	--	--	--

Observe et complète ces suites de 4 en 4.

0	4	8	12						
---	---	---	----	--	--	--	--	--	--

1	5	9							
---	---	---	--	--	--	--	--	--	--

Observe et complète ces suites de 5 en 5.

0	5	10							
---	---	----	--	--	--	--	--	--	--

4	9	14							
---	---	----	--	--	--	--	--	--	--